

Rekenspeurtocht zomer



oefenen met vermenigvuldigen met tientallen

Vorbereiden

Print de bladzijden 2-6 uit en vergroot naar A3, knip de bladzijden zo dat je per bladzijde 4 kaarten krijgt

Print de bladzijde 7 net zo vaak als je leerlingen hebt

Hoe spelen?

Verdeel de kaartjes over de ruimte/buiten

Laat elke leerling op een andere plek starten.

Laat ze speuren naar de sommen en de antwoorden op de kaart invullen



Onderwijswereld-PO.nl

Geschikt voor?

Groep 3-4

Spelen met een hele groep

Kijk wat ik al kan 

www.facebook.com/kjkwatikan






$$80 \times 70 =$$

Kijk wat
ik al kan




$$90 \times 30 =$$

Kijk wat
ik al kan



$$70 \times 50 =$$

Kijk wat
ik al kan



$$80 \times 60 =$$

Kijk wat
ik al kan



$$40 \times 60 =$$

Kijk wat
ik al kan




$$70 \times 60 =$$

Kijk wat
ik al kan




$$60 \times 60 =$$

Kijk wat
ik al kan



$$60 \times 30 =$$

Kijk wat
ik al kan




$$40 \times 80 =$$

Kijk wat
ik al kan




$$90 \times 70 =$$

Kijk wat
ik al kan




$$50 \times 90 =$$

Kijk wat
ik al kan



$$80 \times 50 =$$

Kijk wat
ik al kan



$$70 \times 40 =$$

Kijk wat
ik al kan




$$40 \times 40 =$$

Kijk wat
ik al kan



$$90 \times 40 =$$

Kijk wat
ik al kan



$$70 \times 70 =$$

Kijk wat
ik al kan




$$30 \times 80 =$$

Kijk wat
ik al kan



$$90 \times 60 =$$

Kijk wat
ik al kan



$$100 \times 70 =$$

Kijk wat
ik al kan























$$80 \times 80 =$$

Kijk wat
ik al kan



Rekenspeurtocht antwoorden





















Kijk wat
ik al kan



Rekenspeurtocht antwoorden

Kijk wat
ik al kan

	5600		2400		3200		2800		2400
	2700		4200		6300		1600		5400
	3500		3600		4500		3600		7000
	4800		1800		4000		4900		6400