

Rekenspeurtocht zomer



oefenen met optellen en aftrekken tot 20 zonder overschrijden

TE + E, TE - E



Vorbereiden

Print de bladzijden 2-6 uit en vergroot naar A3, knip de bladzijden zo dat je per bladzijde 4 kaarten krijgt

Print de bladzijde 7 net zo vaak als je leerlingen hebt

Hoe spelen?

Verdeel de kaartjes over de ruimte/buiten

Laat elke leerling op een andere plek starten.

Laat ze speuren naar de sommen en de antwoorden op de kaart invullen



Onderwijswereld-PO.nl

Geschikt voor?

Groep 3-4

Spelen met een hele groep

Kijk wat ik al kan 

www.facebook.com/kijkwatikalkan






$$12 + 7 =$$

Kijk wat
ik al kan




$$19 - 3 =$$

Kijk wat
ik al kan



$$13 + 5 =$$

Kijk wat
ik al kan



$$18 - 6 =$$

Kijk wat
ik al kan



$$12 + 6 =$$

Kijk wat
ik al kan




$$17 - 6 =$$

Kijk wat
ik al kan



$$11 + 6 =$$

Kijk wat
ik al kan



$$16 - 3 =$$

Kijk wat
ik al kan




$$14 + 3 =$$

Kijk wat
ik al kan



$$19 - 7 =$$

Kijk wat
ik al kan




$$15 + 2 =$$

Kijk wat
ik al kan



$$18 - 3 =$$

Kijk wat
ik al kan



$$15 + 4 =$$

Kijk wat
ik al kan




$$16 - 2 =$$

Kijk wat
ik al kan



$$12 + 4 =$$

Kijk wat
ik al kan



$$17 - 3 =$$

Kijk wat
ik al kan



$$13 + 6 =$$

Kijk wat
ik al kan



$$19 - 6 =$$

Kijk wat
ik al kan



$$11 + 7 =$$

Kijk wat
ik al kan























$$18 - 1 =$$

Kijk wat
ik al kan



Rekenspeurtocht antwoorden





















Kijk wat
ik al kan



Rekenspeurtocht antwoorden

Kijk wat
ik al kan

	19		18		17		19		19
	16		11		12		14		13
	18		17		17		16		18
	12		13		15		14		17