

Rekenspeurtocht zomer



oefenen met optellen en aftrekken tot 20 met overschrijden

$$E + E, TE - E$$



Vorbereiden

Print de bladzijden 2-6 uit en vergroot naar A3, knip de bladzijden zo dat je per bladzijde 4 kaarten krijgt

Print de bladzijde 7 net zo vaak als je leerlingen hebt

Hoe spelen?

Verdeel de kaartjes over de ruimte/buiten

Laat elke leerling op een andere plek starten.

Laat ze speuren naar de sommen en de antwoorden op de kaart invullen



Onderwijswereld-PO.nl


Geschikt voor?

Groep 3-4

Spelen met een hele groep

Kijk wat ik al kan 

www.facebook.com/kijkwatikalkan






$$5 + 7 =$$

Kijk wat
ik al kan




$$12 - 3 =$$

Kijk wat
ik al kan



$$8 + 5 =$$

Kijk wat
ik al kan



$$13 - 6 =$$

Kijk wat
ik al kan



$$9 + 6 =$$

Kijk wat
ik al kan




$$15 - 6 =$$

Kijk wat
ik al kan



$$8 + 6 =$$

Kijk wat
ik al kan



$$12 - 7 =$$

Kijk wat
ik al kan




$$9 + 3 =$$

Kijk wat
ik al kan



$$15 - 7 =$$

Kijk wat
ik al kan




$$5 + 9 =$$

Kijk wat
ik al kan



$$18 - 9 =$$

Kijk wat
ik al kan



$$5 + 8 =$$

Kijk wat
ik al kan




$$11 - 8 =$$

Kijk wat
ik al kan



$$9 + 4 =$$

Kijk wat
ik al kan



$$11 - 3 =$$

Kijk wat
ik al kan



$$7 + 6 =$$

Kijk wat
ik al kan



$$14 - 6 =$$

Kijk wat
ik al kan



$$7 + 7 =$$

Kijk wat
ik al kan























$$17 - 9 =$$

Kijk wat
ik al kan



Rekenspeurtocht antwoorden





















Kijk wat
ik al kan



Rekenspeurtocht antwoorden

Kijk wat
ik al kan

 12	 15	 12	 13	 13
 9	 9	 8	 3	 8
 13	 14	 14	 13	 14
 7	 5	 9	 8	 8