

# Rekenspeurtocht

oefenen met procenten van een aantal

Vorbereiden

Print de bladzijden 2-6 uit en vergroot naar A3, knip de bladzijden zo dat je per bladzijde 4 kaarten krijgt

Print de bladzijde 7 net zo vaak als je leerlingen hebt

Hoe spelen?

Verdeel de kaartjes over de ruimte/buiten

Laat elke leerling op een andere plek starten.

Laat ze speuren naar de sommen en de antwoorden op de kaart invullen




Geschikt voor?

Groep 7 - 8

Spelen met een hele groep

Kijk wat ik al kan 

[www.facebook.com/kijkwatikalkan](http://www.facebook.com/kijkwatikalkan)



20%  
van 480

Kijk wat  
ik al kan



30%  
van 550

Kijk wat  
ik al kan



40%  
van 360

Kijk wat  
ik al kan



50%  
van 570

Kijk wat  
ik al kan



25%  
van 600

Kijk wat  
ik al kan



75%  
van 400

Kijk wat  
ik al kan



55%  
van 200

Kijk wat  
ik al kan




15%  
van 800

Kijk wat  
ik al kan



20%  
van 950

Kijk wat  
ik al kan




30%  
van 870

Kijk wat  
ik al kan



40%  
van 520

Kijk wat  
ik al kan



50%  
van 950

Kijk wat  
ik al kan




25%  
van 500

Kijk wat  
ik al kan



75%  
van 300

Kijk wat  
ik al kan



55%  
van 700

Kijk wat  
ik al kan



15%  
van 900

Kijk wat  
ik al kan



20%  
van 560

Kijk wat  
ik al kan



30%  
van 720

Kijk wat  
ik al kan



40%  
van 240

Kijk wat  
ik al kan























50%  
van 680

Kijk wat  
ik al kan



# Rekenspeurtocht antwoorden





















Kijk wat  
ik al kan



# Rekenspeurtocht oplossingen

Kijk wat  
ik al kan 

 96	 150	 190	 125	 112
 165	 300	 261	 225	 216
 144	 110	 208	 385	 96
 285	 120	 475	 135	 340