

Rekenspeurtocht

oefenen met breuken – procenten – kommagetallen

Vorbereiden

Print de bladzijden 2-6 uit en vergroot naar A3, knip de bladzijden zo dat je per bladzijde 4 kaarten krijgt

Print de bladzijde 7 net zo vaak als je leerlingen hebt

Hoe spelen?

Verdeel de kaartjes over de ruimte/buiten

Laat elke leerling op een andere plek starten.

Laat ze speuren naar de sommen en de antwoorden op de kaart invullen



Onderwijswereld-PO.nl

Geschikt voor?

Groep 6 - 7 - 8

Spelen met een hele groep

Kijk wat ik al kan 

www.facebook.com/kijkwatikalkan



$$\frac{2}{8} = \frac{1}{4}$$




$$\frac{4}{16} = \frac{1}{4}$$



$$\frac{2}{4} = 0, \dots$$




$$\frac{1}{4} = 0, \dots$$



$$\frac{2}{4} = \frac{1}{2}$$



$$\frac{4}{6} = \frac{2}{3}$$



$$\frac{3}{4} = 0, \dots$$



$$\frac{3}{8} = 0, \dots$$




$$\frac{4}{6} = \frac{2}{3}$$



$$\frac{6}{8} = \frac{3}{4}$$



$$\frac{7}{8} = 0, \dots$$




$$\frac{2}{5} = 0, \dots$$



$$\frac{7}{8} = \frac{\quad}{\quad}$$




$$\frac{4}{12} = \frac{\quad}{\quad}$$



$$\frac{3}{5} = 0, \dots$$



$$\frac{5}{8} = 0, \dots$$



$$5 \overline{) 3} = \text{r}$$



$$\frac{4}{8} = \text{r}$$



$$\frac{2}{6} = 0, \dots$$



$$\frac{4}{5} = 0, \dots$$



Onderwijswereld-PO.nl

Rekenspeurtocht antwoorden

Kijk wat ik al kan

| | | | | |
|---|---|---|---|---|
|  |  |  |  |  |
|  |  |  |  |  |
|  |  |  |  |  |
|  |  |  |  |  |