

Rekenspeurtocht

Oefenen met $TE + TE$ en $TE - TE$ (met overschrijden)

Vorbereiden

Print de bladzijden 2-6 uit en vergroot naar A3, knip de bladzijden zo dat je per bladzijde 4 kaarten krijgt

Print de bladzijde 7 net zo vaak als je leerlingen hebt

Hoe spelen?

Verdeel de kaartjes over de ruimte/buiten

Laat elke leerling op een andere plek starten.

Laat ze speuren naar de sommen en de antwoorden op de kaart invullen



Onderwijswereld-PO.nl

Geschikt voor?

Groep 4 - 5 - 6

Spelen met een hele groep

Kijk wat ik al kan 

www.facebook.com/kijkwatikalkan



$$54 + 18 =$$



$$54 - 18 =$$



$$46 + 29 =$$



$$46 - 29 =$$



$$65 + 27 =$$



$$65 - 27 =$$



$$76 + 17 =$$



$$76 - 17 =$$



$$63 + 28 =$$



$$63 - 28 =$$



$$72 + 19 =$$



$$72 - 19 =$$



$$45 + 55 =$$



$$88 - 39 =$$



$$48 + 48 =$$



$$37 - 18 =$$



$$64 + 27 =$$



$$84 - 57 =$$



$$26 + 48 =$$






$$71 - 29 =$$



Onderwijswereld-PO.nl

Rekenspeurtocht antwoorden

Kijk wat ik al kan 

1 	2 	3 	4 	5 
6 	7 	8 	9 	10 
11 	12 	13 	14 	15 
16 	17 	18 	19 	20 