

Rekenspeurtocht

Oefenen met $TE + E$ en $TE - E$ (met overschrijden)

Vorbereiden

Print de bladzijden 2-6 uit en vergroot naar A3, knip de bladzijden zo dat je per bladzijde 4 kaarten krijgt

Print de bladzijde 7 net zo vaak als je leerlingen hebt

Hoe spelen?

Verdeel de kaartjes over de ruimte/buiten

Laat elke leerling op een andere plek starten.

Laat ze speuren naar de sommen en de antwoorden op de kaart invullen



Onderwijswereld-PO.nl

Geschikt voor?

Groep 4 - 5

Spelen met een hele groep

Kijk wat ik al kan 

www.facebook.com/kijkwatikalkan



$$14 + 8 =$$



$$14 - 8 =$$



$$36 + 9 =$$



$$36 - 9 =$$



$$45 + 7 =$$



$$45 - 7 =$$



$$54 + 6 =$$



$$54 - 6 =$$



$$65 + 8 =$$



$$65 - 8 =$$



$$72 + 9 =$$



$$72 - 9 =$$



$$88 + 9 =$$



$$88 - 9 =$$



$$27 + 6 =$$



$$27 - 6 =$$



$$24 + 7 =$$



$$24 - 7 =$$



$$32 + 8 =$$





















$$32 - 8 =$$



Onderwijswereld-PO.nl

Rekenspeurtocht antwoorden

Kijk wat ik al kan 

1 	2 	3 	4 	5 
6 	7 	8 	9 	10 
11 	12 	13 	14 	15 
16 	17 	18 	19 	20 